



## Preguntas Categoría B (idioma coreano)

Foto	Pregunta	Opcion: A	Opcion: B	Opcion: C	Repuesta correcta
	다음 표지판이 의미하는 것은?	A. 숲이 인접한 지역	B. 야자수 지역	C. 측면방향 강풍	<b>C</b>
	보행자용 보도를 가로질러 차도로 나오려고 할 때 보행자 혹은 다른차와 접촉사고를 냈다면 누구 과실인가?	A. 보행자 과실. 차가 나오는 것을 유의하지 않았기 때문	다른 차의 과실, 차가 차도에 나오는 것을 유의하지 않았으므로	차도로 나오던 차량에 과실이 있다	<b>C</b>
	어떤 차도에는 차도에 V자가 역으로 그려져 있거나 혹은 그러한 그림의 표지판이 세워져 있다. 이 표지의 의미는 무엇인가.	A. 자주 안개가 끼는 지역에 진입했음을 의미	B. 속도제한(radar) 구역에 진입했음을 의미.	C. 홍수지역에 진입했음을 의미	<b>A</b>
	면허증을 소지한 미성년자가 사고를 냈을 경우 누구에게 민사상 책임이 있는가	A. 동승한 사람	B. 그가 면허증을 낼 때 보증서명한 사람.	C. 차를 빌려준 사람	<b>B</b>
	길 모퉁이 근처에 주차할 때 어떤 라인을 넘어서는 안되나.	A. 보행자 선	B. 모퉁이 건물의 사선 벽면의 연장선	C. 주차되는 차와 직각 방향 건물의 건축선	<b>B</b>
	수평표시 혹은 수평으로 그어진 표시에서 이슬레파(작은 섬)는 무엇을 의미하나	A. 차선을 분리 혹은 지시하기 위한 선 혹은 구역으로 그것을 넘거나 그위로 통행해서는 안된다.	B. 그위에 정차할 수 있다는 위치표시이다.	C. 그위에 주차하거나 혹은 정차할 수 있다는 표시이다.	<b>A</b>
	일반적으로 주차금지라는 표지가 있는 곳에서 승객이 내리거나 탈수 있는 것인가	A. 그렇다	B. 안된다	C. 시간대에 따라 다르다	<b>A</b>
	다음 그림과 같은 교차로에서 어떤 차량이 교차할 우선권이 있다.	A. 빨간 승용차	B. 오토바이	C. 노란 짐차	<b>A</b>
	사고시 '과실'이란 무엇을 의미하나	A. 피해를 유도할 의도를 가진 행동	B. 피해를 줄 의도가 없는 행동	C. 운전을 하도록 허락되지 않은 경우	<b>B</b>
	다른 차가 당신의 차를 추월할 상황이 아닌데도 불구하고 당신차를 추월하려할 때 어떤 신호를 보내야 하나	A. 양쪽 깜박이를 켜다	B. 왼쪽 방향 깜박이를 켜다	C. 오른쪽 방향 깜박이를 켜다	<b>B</b>



	시내에서 어떤 경우에 후진이 허용되는가	A. 주차할 경우, 주차장에 들어가거나 나올 경우(다른 방법이 없을 경우에 한해), 혹은 장애물을 피해야 할 경우	B. 짧은 거리를 이동할 때	C. 낮에만 가능	A
	병원, 학교, 사찰, 혹은 다른 공공기구의 건물의 입구 앞에 주차할때 어느정도의 거리를 비워놔야 하나	A. 입구의 좌우 10미터	B. 공공건물 앞 전체의 거리	C. 입구 좌우로 5미터	A
	안개 낀 날 운전할 때 무엇을 주의해야 하나	A. 가시거리에 따라 차량의 속도를 유지한다	B. 앞차와의 거리를 적어도 50미터 이상 유지한다.	C. 운전시 별다르지 않다	A
	추월하기 위해 택시나 버스 전용차선 안으로 들어간다 이것이 허용되나	A. 안된다. 추월시 전용차선을 사용할 수 없다.	B. 이 차선의 바깥측 선이 끊어진 곳에서는 가능하다.	C. 부득이한 경우에는 이 차선을 사용할 수 있다.	A
	아우또빠스파에서 차가 고장났을 때 다른 차로 견인할 수 있나	A. 안전하게 주차할 수 있는 곳까지 짧은 거리는 가능하다.	B. 고장난 차의 차주인이 견인차에게 견인을 허락한 경우에는 가능하다.	C. 안된다. 견인은 금지됐다.	C
	당신은 교차로에서 다른차를 추월하려 한다. 가능한가.	A. 그렇다. 내가 가는 방향이 우선권이 있을 때 가능하다.	B. 불가능하다. 교차로에서의 추월은 금지돼 있다.	C. 불가능하다. 교차로에서의 추월은 로터리 지역에서만 가능하다.	B
	다음 중 어느 것이 국도표시판인가	A. A표시판	B. B표시판	C. C표시판	B
	모든 차량은 보험에 가입해 있어야 한다. 어떤 종류의 보험이어야 하나	A. 제3의 차량이나 그 적재물에 피해를 줄 때 보상해주는 보험	B. 제3의 차량의 적재물에 피해를 줄 때만 보상해주는 보험	C. 차량의 피해만 보상해주는 보험	A
	이 표시판은 어떤 규제 표시인가	A. 의무 표시	B. 충고 표시	C. 금지 표시	C
	일반적으로 차량의 뒷 등의 색은 빨간색(정차등, 위치등)이며 방향지시등은 노란색이다. 그렇다면 후진등은 왜 백색인가	A. 방향지시등, 제동등의 색과 구분하기 위해	B. 차량진행방향을 나타내기 위해. 백색등은 차량이 역방향으로 진행한다는 것을 의미하므로	C. 백색등은 야간과 시야가 좋지 않은 조건에서도 잘 보이기 때문에	B



차량을 운전할 때 어떠한 서류를 갖춰야 하나	A. 면허증만 있으면 충분하다	B. 면허증과 도꾸멘토를 지녀야한다.	C. 면허증, 도꾸멘토, 그리고 세둘라 베르데	<b>B</b>
차량의 범퍼에 보조물(테펜사 등)을 부착하는 것은 허용되나	A. 위험하거나 공격적인 부착물은 금지되었으며 원래의 범퍼를 변형하는 것도 금지되었다.	B. 소형차량에는 부착이 가능하다	C. 운행되는 지역에 따라	<b>A</b>
비상표시기(일명 발리사)는 항상 의무적으로 차량 안에 비치해야 한다. 이 비상표시기는 항상 삼각형이어야 하나.	A. 항상 삼각형이어야 하며 빛을 반사할 수 있어야 한다.	B. 다른 형태일 수도 있으며 전등이어도 된다. 단 삼각대 보다 효율이 같거나 그 이상이어야 한다.	C. 차량에 따라 다르다.	<b>B</b>
언제 차량을 왼쪽 혹은 오른쪽 길가에 인도와 일정한 각도로 주차시킬 수 있나	A. 차도가 넓은 경우만 가능하다	B. 일정각도로 주차를 허용한다는 표지판이 있는 경우에만 가능하다.	C. 차도의 한쪽 편에만 주차가 가능하다.	<b>B</b>
산 안드레스 교차로는 무엇을 뜻하는 가	A. 차도의 교차로	B. 철도 건널목	C. 보행자의 건널목	<b>B</b>
차도 변에 주차했다가 출발하기 직전 해야 할일은.	A. 경적을 울리고 곧 차량행렬에 끼어든다	B. 지나가는 차량이 없을 때까지 기다린 후 깜박이를 켜고 주행선으로 진입한다.	C. 다른 차선의 차량에 비해 우선권이 있으므로 가급적 빨리 주행차선에 들어간다.	<b>B</b>
다른 차가 당신의 차에 가까이 온 후 추월하려 할때 어떻게 해야 하나	A. 오른쪽으로 차를 붙이고 필요하다면 속도를 줄인다	B. 속도를 높인다	C. 당신 차의 속도에 따라 대응 방법이 다르다.	<b>A</b>
시골 길(보도가 없는 길)을 걸을때 보행자는 길의 어떤 방향으로 보행해야 하나	A. 차량 진행 방향의 반대방향으로 걷는다	B. 차도에 가장 가까운 길 쪽으로 걷는다	C. 차량 진행방향과 같은 방향으로 걷는다.	<b>A</b>
차량 통행을 위한 한 까틸(차도)은 무엇을 의미하는가	A. 차도 왼쪽의 갓길	B. 차도 오른쪽의 갓길	C. 차량들이 일렬로 통행할 수 있는 폭의 범위	<b>C</b>
차량을 추월하는 가장 적절한 방법은	A. 오른쪽으로	B. 갓길로	C. 적절한 신호를 보내면서 왼쪽으로	<b>C</b>
보카 까제(까제가 시작되는 곳)는 어떻게 이해해야 하나	A. 2방향 이상의 차선이 겹쳐지는 곳으로 보행자 건널목을 포함한다.	B. 까제와 아베니다가 교차하는 지점을 말한다	C. 두개의 고속도로가 만나는 지점	<b>A</b>
아무런 속도제한 표시가 없을 경우 아베니다의 최고 제한 속도는.	A. 80Km/h	B. 60Km/h	C. 40Km/h	<b>B</b>
까제에서의 최고 제한 속도는	A. 30Km/h	B. 40Km/h	C. 50Km/h	<b>B</b>



	기차길과 평행한 간선도로를 달리고 있는 한 차량이 철도 건널목을 넘어오는 차량과 교차할 때 무조건 양보해야 하는가	A. 오른쪽에서 진입하면 양보해야 한다	B. 왼쪽에서 진입하면 양보해야 한다	C. 왼쪽, 오른쪽 어느방향에서 진입하던 양보해야 한다.	<b>C</b>
	일반적으로 부에노스 아이레스 시내의 아우토폼스따에서 허용되는 최고 속도는	A. 70Km/h	B. 100 Km/h	C. 120 Km/h	<b>B</b>
	음주한 운전자가 느끼는 효과중에는 무엇이 있는가	A. 거리와 속도감각이 줄어든다	B. 시야가 넓어진다	C. 제동거리가 줄어든다	<b>A</b>
	에어백이 있는 차량은 안전벨트를 맬 의무가 없는가	A. 그렇다. 충돌해도 운전자나 탑승자가 받는 충격이 적기 때문이다.	B. 그렇다. 머리와 목의 부상이 줄어들기 때문이다.	C. 그렇지 않다. 에어백은 보조장치일뿐이므로 안전띠를 맬 의무는 계속 존재한다.	<b>C</b>
	당신 차량이 고장나서 갓길에 세웠다. 표식을 할 필요가 있는가	A. 아니다. 갓길에 세웠으므로 그럴 필요없다	B. 그렇다, 삼각대로 표시한다	C. 그렇다. 삼각대를 설치하고 또 양쪽 깜박이를 켜야한다.	<b>C</b>
	차도에 삼각형이 그려져있다. 무엇을 의미하는가	A. 위험한 곳에 가까워지고 있다는 표시다.	B. 횡단하는 차량에게 양보하라는 뜻이다	C. 그 차선에 있는 차량이 횡단 우선권이 있다는 표시다.	<b>B</b>
	도시 내 거리에서 등을 켜는 것이 의무라는 표시가 있다면 어떤 등을 켜야 하나	A. 차폭등과 전조등의 상향등을 켜다	B. 실내등을 켜다.	C. 차폭등과 전조등의 하향등을 켜다	<b>C</b>
	일반적으로 경사길에서 차량의 통행 우선권은	A. 올라가는 차가 내려오는 차보다 우선한다	B. 내려가는 차가 올라가는 차보다 우선한다	C. 표지판의 지시에 따른다	<b>A</b>
	가속 차선이란 무엇인가	A. 아우토폼스따의 오른쪽 차선이다	B. 아우토폼스따에 진입하는 차선이다	C. 아우토폼스따의 왼쪽차선이다.	<b>B</b>
	한 운전자가 깜박이를 켜고 경적을 울리면서 운전하며 조수석에 탄 사람이 한 손수건을 창밖으로 내놓고 흔들면서 간다면 왜그럴까	A. 그 차량은 문제가 있는 것이다	B. 그 차량에는 병원으로 급히 데려가야할 환자가 타고 있다는 뜻이다.	C. 단순히 고속주행하면서 신호위반하는 차량이다	<b>B</b>
	법 24.449에 의하면 고속도로(아우토폼스따)에서 허용된 최고 속도는	A. 60Km/h	B. 80Km/h	C. 130Km/h	<b>C</b>

	로터리에서 교차하는 차량들의 우선권은	A. 로터리 안에서 운행하는 차량이 로터리에 진입하는 차량보다 우선, 로터리를 나가는 차량이 로터리로 진입하는 차량과 로터리를 도는 차량보다 우선한다	B. 로터리에 진입하는 차량이 로터리를 빠져나가는 차량보다 우선한다.	C. 로터리에 진입하는 차량이 로터리를 도는 차량보다 우선한다	<b>A</b>
	도로에 안개가 짙을때 갓길에 세우는 것이 최선의 방책인가	A. 안개로 지척도 분간이 안된다면 그래야 한다	B. 결코 정차해서는 안된다. 부득이한 경우에는 갓길에 세워도 안되고 가능한 한 도로에서 먼 곳에 정차한다.	C. 안개가 짙게 끼지 않았을 경우에도 정차해도 무방하다	<b>B</b>
	모퉁이를 돌때 원하는 모퉁이에 돌기전 도는 방향의 보도 쪽에 가까운 곳으로 차선을 변경해야 한다. 회전하기 몇 미터 전에서 회전 방향의 차선에 진입해 있어야 하나	A. 10 미터	B. 20 미터	C. 30 미터	<b>C</b>
	이 표지판은 어떤 뜻인가	A. 역방향	B. 로터리	C. 검문소	<b>A</b>
	이 표지판은 어떤 뜻인가	A. 양방향 도로 폭이 좁아지고 있다	B. 좁은 교량	C. 도로가 양방향으로 갈라짐	<b>B</b>
	이 표지판은 어떤 뜻인가	A. 주차 금지	B. 주정차 금지	C. 허용된 차에 한해 주차 허용	<b>B</b>
	이 표지판은 어떤 뜻인가	A. 양방향 도로가 시작됨	B. 양방향도로가 분리됨	C. 오르락 내리락 길이 반복됨	<b>A</b>
	이 표지판은 어떤 뜻인가	A. 통과차량 높이 제한(최고높이)	B. 폭 제한	C. 좁은 교량	<b>A</b>
	이 표지판은 어떤 뜻인가	A. 로터리	B. 차선 분리	C. 양방향 시작	<b>B</b>

	이 표지판은 어떤 뜻인가	A. 도로 폭이 좁아짐 (단 방향)	B. 차선 분리	C. 도로 폭이 좁아짐 (양방향)	<b>C</b>
	이 표지판은 어떤 뜻인가	A. 높이 제한	B. 폭 제한	C. 중량 제한	<b>A</b>
	이 표지판은 어떤 뜻인가	A. 십자로	B. 셋길	C. 셋길에서 진입	<b>C</b>
	이 표지판은 어떤 뜻인가	A. 통행로 양보	B. 주의	C. 버스전용차선	<b>A</b>
	이 표지판은 어떤 뜻인가	A. 역방향	B. 전방 진행 금지	C. 일단 정지	<b>C</b>
	이 표지판은 어떤 뜻인가	A. 일반적인 커브	B. 커브길 (S자)	C. 차선 분리	<b>B</b>
	이 표지판은 어떤 뜻인가	A. 높이 제한	B. 중량 제한	C. 폭 제한	<b>B</b>
	이 표지판은 어떤 뜻인가	A. 차폭 제한	B. 차 높이 제한	C. 전방에 좁은 교량	<b>A</b>
	이 표지판은 어떤 뜻인가	A. 도로 폭이 좁아짐 (양 방향)	B. 도로 폭이 좁아짐 (단 방향)	C. 전방에 좁은 교량	<b>B</b>
	운전 전 음식을 먹는 것은 운전엔 지장을 줄 수 있다. 그러므로 여행 중 졸음이 오는 것을 억제하려면	A. 여행전 먹지 않고 공복으로 출발한다	B. 지치는 것을 방지하기 위해 지방성분이 높은 음식을 섭취한다.	C. 소화가 잘되고 낮은 칼로리의 가벼운 음식을 먹는다	<b>C</b>









	사진 속의 트럭은 배달을 하기 위해 잠깐 이중으로 주차했다. 주차위치가 맞는가	A. 맞다	B. 맞지 않다	C. 화물의 적하차 허용시간대에는 맞다	<b>B</b>
	사진 속의 트럭은 오렌지색에 검은색 테두리를 두른 두장의 번호가 적힌 표지판을 달고 있다. 무슨 뜻인가	A. 이 차량은 표지판에 쓰여있는 번호가 의미하는 위험물을 운반중이라는 뜻이다	B. 이 차량은 중량과 그 크기가 초과해 있다는 뜻이다.	C. 이 차량의 번호판은 외국차라는 뜻이다.	<b>A</b>
	이 표지판은 어떤 뜻인가	A. 자갈이 튀는 것 주의	B. 흙더미 무너지는 것 주의	C. 노면이 미끄러움	<b>B</b>
	이 표지판은 어떤 뜻인가	A. 오르내리락 길	B. 노면이 미끄러움	C. 커브와 반대커브	<b>B</b>
	이 표지판은 어떤 뜻인가	A. 흙더미 붕괴 주의	B. 미끄러운 노면 주의	C. 자갈 튀는 것 주의	<b>C</b>
	이 표지판은 어떤 뜻인가	A. 횡단보도	B. 보행자 좌측통행	C. 통행 금지	<b>A</b>
	이 표지판은 어떤 뜻인가	A. 현격한 커브길 조심	B. 보통 커브길	C. 커브길 미끄러움 조심	<b>A</b>
	이 표지판은 어떤 뜻인가	A. 검문소	B. 역방향	C. 전진 금지	<b>A</b>
	이 표지판은 어떤 뜻인가	A. 터널	B. 좁은 교량	C. 최저 높이	<b>A</b>
	이 표지판은 어떤 뜻인가	A. 측면방향 강풍	B. 길 좁아짐	C. 주의	<b>C</b>



	이 표지판은 어떤 뜻인가	A. 주차하지 마시오	B. 특정차만 주차가능	C. 주정차 불가	<b>B</b>
	이 표지판은 어떤 뜻인가	A. 의무 우회도로(우측)	B. 의무 우회도로(좌측)	C. 교차로	<b>A</b>
	번호판을 편한대로 뒷유리창 안에 설치할 수 있는가	A. 항상 보이는 곳이라면 무방	B. 뒷 번호판에 한해 허용	C. 번호판은 항상 규정된 위치에 부착해야 한다	<b>C</b>
	푸른등이 켜져서 길을 횡단할 수 있을 때 횡단 방향에서 아직도 차량이 지나가고 있다. 어떻게 해야 하나	A. 횡단방향의 차량의 행렬이 끝날 때까지 전진하지 않는다.	B. 전진한다. 푸른신호를 받은 쪽이 우선이기 때문이다.	C. 다시 푸른등이 켜질 때까지 기다린다.	<b>A</b>
	일반적으로 시내에서 자동차의 경적을 사용하는 것이 금지돼 있는가	A. 그렇지 않다. 사용할 수 있다	B. 그렇다. 사용할 수 없다	C. 불필요한 경적사용은 금지돼 있다.	<b>C</b>
	자가운전시 허용되는 혈중 알코올 농도는	A. 혈액1리터당 0.8그램	B. 혈액1리터당 0.5그램	C. 혈액1리터당 1.5그램	<b>B</b>
	횡단보도 선이 그어져 있지 않은 곳을 보행자가 횡단할 수 있는 곳은	A. 파드라의 중간 지역	B. 버스정류장이 위치한 지역	C. 길 모퉁이, 보도의 연장선	<b>C</b>
	신호등도 경찰관도 없는 길을 횡단할 때 한 보행자가 길을 횡단하고 있다. 어떻게 해야 하나	A. 차의 속도를 줄이고 주의를 기울인다	B. 정차한 후 보행자에게 길을 양보한다	C. 횡단할 수 있는 우선권이 있으므로 그냥 횡단한다.	<b>B</b>
	터널이나 교량을 지나고 있다. 앞차를 추월할 수 있는가	A. 가능하다.	B. 안된다.	C. 경우에 따라서 가능하다	<b>B</b>
	횡단보도 상에 차량을 정차할 수 있는가	A. 안된다.	B. 가능하다.	C. 경우에 따라서 가능하다	<b>A</b>
	차량을 주차할 때 보도블럭과 어느정도의 사이를 두어야 하는가	A. 50Cm	B. 10Cm	C. 20Cm	<b>C</b>
	자동차의 경우 타이어의 무늬가 적어도 어느정도 남아 있어야 하는가	A. 0.5mm	B. 1.0mm	C. 1.6mm	<b>C</b>
	안전벨트는 어떤 역할을 하는가	A. 그것은 고속으로 달릴때만 유용하다	B. 어린이를 보호할 때 유용하다	C. 사고시 상해피해를 줄이거나 방지할 수 있다.	<b>C</b>
	일반적으로 교차로에서 어떤 차가 횡단우선권을 갖는가	A. 영업용 승합차	B. 크기가 작은 차	C. 오른쪽 방향에서 접근하는 차	<b>C</b>
	안전벨트가 장착된 차에 승차했을 때 의무적으로 그것을 사용해야 하나	A. 그렇다. 예외없이 사용해야 한다.	B. 앞좌석 승차자는 의무적으로 사용해야하나 그 외의 좌석은 선택사항이다.	C. 그렇다. 그러나 국도나 고속도로를 주행할 때만 그렇다.	<b>A</b>




주차하려 할때 주차공간이 비좁아 부득이 차를 인도위로 올렸다. 무방한 행동인가	A. 안된다	B. 보행자의 통행을 방해하지 않는 경우에는 가능하다	C. 보행자가 거의 없는 야간에는 가능하다.	A
뒤에서 경광등을 켜고 앰블런스가 다가오고 있다. 길을 양보해야 하나	A. 아니다. 경광등을 켜다고 해서 위급환자를 운반중인 것은 아니기 때문이다.	B. 그래야 한다. 응급환자를 운송중이기 때문이다.	C. 그래야 한다. 응급차는 환자를 수송할 때 경광등을 켜기 때문이다.	A
다른 운전자에게 당신의 의도를 알리려 한다. 어떻게 해야 하나	A. 손으로 한다.	B. 차량에 장치된 각종 등으로 한다.	C. 경적으로 알린다.	B
다른 차량의 뒤를 따라가고 있다. 교차로에서 신호가 바뀌어 당신차가 횡단 방향의 차의 진행을 방해할 것으로 예상된다. 어떻게 해야 하나	A. 그냥 횡단한다. 우선권이 있기 때문이다.	B. 푸른등이 바뀌기 전에 횡단하려 힘쓴다.	C. 신호가 바뀌기 전에 횡단을 완료할 수 없을 것 같으면 횡단하는 차량을 방해하지 않는 위치에 정차한다.	C
응급차는 어느 경우에 통행 우선권을 가지나	A. 항상	B. 위급 상황일 때	C. 위급 상황이며 동시에 아베니다를 주행할 때	B
평상시 앞차와의 안전 거리를 시간으로 환산한 값은	A. 5초간 주행하는 거리	B. 2초간 주행하는 거리	C. 3초간 주행하는 거리	B
수상 비행(hidroplaneo)이란 무슨 뜻인가	A. 바퀴가 유막을 형성한 도로에서 미끄러지는 것	B. 바퀴가 도로위에 물이 형성하는 수막위를 미끄러지는 것	C. 자동차의 페차까지의 기간	B
자동차의 진행방향으로 그어진 차선 중 비연속적으로 그어진 선은 무엇을 의미하나	A. 그 차선을 따라 주행해야 한다는 것을 의미하므로 앞차를 추월할 수 없다.	B. 앞차를 추월할 수 있다는 것을 의미하는 차선이다.	C. 아스팔트가 낡아서 철이 벗겨진 것이다.	B
연속적으로 2중의 노란색 차선은 무엇을 의미하는가	A. 차량의 진행방향을 구별하는 선이다.	B. 양쪽 방향 중 어느쪽에서도 이선을 넘어 올 수 없고 또 그 선을 밟으면서 주행해도 안된다는 것을 의미	C. 자가용 승용차만 통행할수 있는 도로라는 뜻	B
양방도로란 무엇을 의미하는가	A. 다른방향의 도로가 횡단하는 넓은 도로	B. 양쪽 방향으로 차량이 통행할 수 있는 도로	C. 공공 차량의 통행만 허락된 도로	B
커브 길에서 추월은 허용되는가	A. 완만한 커브길은 추월이 가능하다	B. 반대방향에서 차가 오지 않을 경우는 가능하다	C. 안된다. 추월이 금지돼 있다.	C

	이 표지판은 어떤 뜻인가	A. 추월금지	B. 소음내지 말것 (경적 금지)	C. 상향 전조등 사용금지	<b>B</b>
	이 표지판은 어떤 뜻인가	A. 낭떠러지 도로	B. 진입 각도	C. 급경사 내리막길	<b>C</b>
	이 표지판은 어떤 뜻인가	A. 추월금지	B. 주행금지	C. 많은 자전거 통행 주의	<b>A</b>
	이 표지판은 어떤 뜻인가	A. 좌측 회전하시오	B. 위험물 근접	C. 로터리	<b>C</b>
	이 표지판은 어떤 뜻인가	A. 최대속도 제한	B. 최저속도 제한	C. 레이더로 속도위반 단속	<b>B</b>
	이 표지판은 어떤 뜻인가	A. 방목 가축 주의	B. 목장 지대	C. 동물원	<b>A</b>
	이 표지판은 어떤 뜻인가	A. 차량길이 제한	B. (공공차량) 전용차선	C. 우측차선에 화물차 차선	<b>B</b>
	이 표지판은 어떤 뜻인가	A. (자전거)통행 금지	B. 자전거 주행자 주의	C. (오토바이)통행금지	<b>B</b>
	이 표지판은 어떤 뜻인가	A. 양방향 도로 시작점	B. 도로 좁아짐 (단일 방향으로)	C. 직진방향 길 없음	<b>C</b>
	이 표지판은 어떤 뜻인가	A. 철도 건널목	B. 기차역	C. (철도) 전용 통행로	<b>A</b>

	이 표지판은 어떤 뜻인가	A. 양방향 도로 시작점	B. (단일방향으로) 도로 폭 좁아짐	C. 직진방향 길 없음	<b>C</b>
	이 표지판은 어떤 뜻인가	A. 최저속도 제한	B. 레이더로 속도위반 단속	C. 최고속도 제한	<b>C</b>
	이 표지판은 어떤 뜻인가	A. 아이들 주의	B. 학교 앞	C. 횡단 보도	<b>B</b>
	이 표지판은 어떤 뜻인가	A. 급 커브	B. 의무 (좌)회전하시오.	C. 일반 커브	<b>B</b>
	이 표지판은 어떤 뜻인가	A. 산간 지역	B. 도로 요철지역	C. 철도 건널목	<b>B</b>
	이 표지판은 어떤 뜻인가	A. 개폐식 교량	B. 좁은 교량	C. 급경사(내리막길)	<b>A</b>
	이 표지판은 어떤 뜻인가	A. 커브 길	B. 의무 좌회전 하시오	C. 오르내리막길	<b>A</b>
	이 표지판은 어떤 뜻인가	A. 응급차 우선 차선	B. 주차금지	C. 전용차선	<b>B</b>
	이 표지판은 어떤 뜻인가	A. U턴 금지	B. 직진 금지	C. 검문소	<b>B</b>
	이 표지판은 어떤 뜻인가	A. (일반)커브길	B. 의무 진행방향(왼쪽)	C. 막다른 길(교차로)	<b>B</b>

	이 표지판은 어떤 뜻인가	A. 직진 금지	B. 양방도로 시작	C. 의무 진행방향 (일방통행 시작)	<b>C</b>
	이 표지판은 어떤 뜻인가	A. 추월금지	B. (오토바이)전용차선	C. 자동차 통행 금지	<b>C</b>
	이 표지판은 어떤 뜻인가	A. 180도 회전 허용	B. 오르내리막 길	C. U턴 금지	<b>C</b>
	이 표지판은 어떤 뜻인가	A. U턴 금지	B. 좌회전 금지	C. 좌회전 하시오	<b>B</b>
	이 표지판은 어떤 뜻인가	A. 커브 길	B. 의무적으로 좌회전하시오	C. 의무적으로 우회전하시오	<b>C</b>
	사진과 같은 표지판이 있을 때 당신은 어떻게해야 하는가	A. 왼쪽 방향에는 진입금지 표지가 있으므로 의무적으로 화살표 방향으로 회전해야 한다.	B. 왼쪽 방향에는 양방향 통행금지 표지가 있으므로 의무적으로 화살표 방향으로 회전해야 한다.	C. 화살표 방향으로 회전해야 하지만 반대방향에서 차가 오지 않을 경우 좌회전 할 수도 있다.	<b>A</b>
	사진과 같은 표지판이 있다. 길이 매우 좁아서 차량이 교차하는 것이 불가능할 때 어느 차량이 먼저 통과할 수 있는가	A. 자동차	B. 빨리 운전하는 차량이 우선	C. 트럭	<b>C</b>
	사진과 같은 도로에서 당신은 빨간색 차를 추월할 수 있는가	A. 그렇다	B. 반대방향에서 차가 오지 않을 경우는 가능하다	C. 불가하다.	<b>C</b>
	시내에서 앞차를 추월하려 할 때 앞차 운전자에서 당신의 추월 의사를 알리기 위해 경적을 사용해도 되는 가	A. 짧게 사용하는 것은 허용된다.	B. 경적사용이 금지되는 지역이라는 표지가 없는 곳에서는 가능하다.	C. 경적사용은 안된다.	<b>C</b>
	당신은 시내에서 운전 중이다. 안전벨트를 매야 하는가	A. 그렇다. 항상 의무적으로 사용해야 한다.	B. 그럴 필요없다. 시외구간에서만 안전벨트 사용이 의무이기 때문	C. 그럴 필요없다. 나는 저속으로 주행한다.	<b>A</b>



	당신의 8세 아들은 앞좌석에 앉아 여행할 수 있는가	A. 절대 안된다.	B. 안된다. 그러나 안전벨트나 필요한 안전장치를 부착하면 가능하다.	C. 모든 경우 가능하다.	<b>A</b>
	비상용 삼각대(일명 발리사)는 어디에 비치해야 하는가	A. 조수석 앞 서랍안에	B. 차량 안에 반드시 차체에 고정시켜야 한다.	C. 아무 곳이든 손이 닿는 곳에	<b>C</b>
	당신 뒤에 쫓아오는 차량에서 전조등이 높을 경우가 있다. 이것이 가능한가	A. 불가능하다. 전조등으로 인한 눈부심은 반대방향에서 오는 차량의 전조등으로 인한 경우 뿐이다.	B. 가능하다. 차량들은 항상 상향 전조등을 켜고 주행하기 때문이다.	C. 가능하다. 뒤차가 상향 전조등을 켜었을 경우, 하향 전조등을 켜지만 전조등 조정이 잘못된 경우, 도로의 요철이 심한 경우 등에 뒤차의 전등이 높은 것으로 나타날 수 있다.	<b>C</b>
	차선이 두줄로 그어져 있으나 한줄은 연속된 선이고 다른 선은 주기적으로 끊어진 선이라면 어떻게 운전해야 하는가	A. 주의한다면 이 선들을 넘어설 수 있다.	B. 이 선들을 넘어서면 안된다.	C. 내쪽의 선이 연속적이면 넘으면 안되고 내쪽의 선이 주기적으로 끊어진 선이면 넘어도 된다.	<b>C</b>
	신호등이 빨간색에서 파란색으로 바뀌면 출발해도 된다. 이때 어떤 것을 주의해야 하나	A. 길 건너 쪽에 아직도 차량이 밀려있으면 횡단방향의 차량들의 통행에 지장을 주므로 차를 전진시키지 않는다.	B. 발진하기 전에 횡단차량들과 횡단 보행자들이 완전히 길을 건너갔나 살핀다.	C. 적어도 a와 b의 주의사항을 준수한다.	<b>C</b>
	국도 변에 다음과 같은 삼각형의 표지판이 있을 때 무엇을 의미하는가	A. 도로의 오른쪽 차도가 좁아지는 지역에 진입하고 있으므로 위험하다는 뜻	B. 전방에 오른쪽 급커브길이 있으므로 위험하다는 뜻	C. 급경사 오르막길이 시작되므로 위험하다는 뜻	<b>B</b>
	법 2148조에 따르면 고속도로에서는 무엇이 금지돼 있는가	A. 앞차를 추월하는 행위	B. 불가피한 경우 정차하는 행위.	C. 후진하는 행위	<b>C</b>
	운전규범에 따르면 보행자 쪽 신호등이 노란색이 깜박거리고 있다. 이때 보행자가 길을 횡단하려고 기다리고 있다면 어떻게 해야 하나	A. 횡단보도를 횡단하지 않는다.	B. 이미 횡단 중이라면 주의한다.	C. a와 b, 모두 옳다	<b>C</b>



운전규범에 따르면 사고가 났을때 운전자의 미숙으로 인한 사고라면 무엇을 의미하는가	A. 운전지식 혹은 경험의 부족으로 교통의 각 상황에 따라 적절하게 대응하지 못한 경우	B. 침착하게 대처해야 했음에도 불구하고 위험한 방법으로 대처한 경우	C. 상태가 안 좋은 차량을 운전하면서 준수사항을 게을리한 경우	<b>A</b>
법 24.449에 따르면, 빨강색으로 칠해진 보도블럭은 무엇을 의미하는가	A. 주차금지 지역, 승객의 승, 하차는 가능	B. 응급차량만 주차할 수 있도록 제한된 구역	C. 주차와 정차가 모두 금지된 지역	<b>C</b>
법 24.449에 따르면, 노란색으로 칠해진 보도블럭은 무엇을 의미하는가	A. 주차금지 지역, 승객의 승, 하차는 가능	B. 승합차의 주차만 허용된 지역	C. 주차와 정차가 모두 금지된 지역	<b>A</b>
법 2148조에 따르면 응급서비스 중인 응급차는 모든 경우에 우선통행권을 가진다. 이밖에 다른 준수의무로 부터도 면제되나	A. 그렇다. 응급서비스 중인 응급차는 모든 교통법 규제로부터 면제된다.	B. 그렇다. 단 교통경찰의 특별한 지시를 받는 경우를 제외하고는 모두 면제된다.	C. 그렇지 않다. 비록 응급서비스 중이라도 다른 차량과 마찬가지로 교통법규를 지켜야 한다.	<b>B</b>
법 2148조에 따르면 응급차가 아닌 경우 지극히 시급한 경우에는 응급차역할을 할수 있다	A. 가능하다. 단 모든 등을 켜고 경적을 자주 울리며 손수건을 흔들며 주행해야 한다.	B. 가능하다. 응급운전 중인 운전자는 손을 창밖으로 내놓고 흔들어 응급상황임을 타인에게 알려야 한다.	C. 불가능하다. 응급차만이 할 수 있다.	<b>A</b>
법 2148조에 따르면 교통법규에 따라 제재를 받는 차량은 아무 곳에 세워도 되나	A. 안된다. 교통법이 규정하는 허락된 장소에만 주차 가능하다.	B. 그렇다. 제재를 받는 차량은 다른차의 주행에 방해되지 않는 곳에 차를 세워야 한다.	C. 그렇다. 교통제재가 있는 경우에는 도로의 어느곳에 세워도 무방하다.	<b>B</b>
법 2148에 따르면 신호등이 없는 교차로에서 우선 통행권의 순서는 주행하고 있는 도로에 따라 어떻게 되나.	A. 빠사헤, 까제, 아베니다 순	B. 까제, 아베니다, 빠사헤 순	C. 아베니다, 까제, 빠사헤 순	<b>C</b>
법 2148는 양방통행 아베니다의 주차금지시간에 대해 규정하고 있다. 어느것이 맞나	A. 양쪽, 평일 7시부터 21시까지	B. 도로 오른쪽, 평일 7시부터 21시까지	C. 도로 왼쪽, 평일 7시부터 21시까지	<b>A</b>
법 2148는 일방통행 아베니다의 주차금지시간에 대해 규정하고 있다. 어느것이 맞나	A. 도로 왼쪽, 평일 하루종일	B. 도로 왼쪽, 평일 7시부터 21시까지	C. 도로 오른쪽, 평일 7시부터 21시까지	<b>B</b>
법 2148는 일방통행 까제의 주차금지시간에 대해 규정하고 있다. 어느것이 맞나	A. 도로 오른쪽, 평일 하루 종일	B. 도로 왼쪽, 평일 7시부터 21시까지	C. 도로 왼쪽, 모든 날, 하루종일	<b>C</b>
법 2148는 정차금지에 대해 규정하고 있다. 어느 것이 맞나	A. 이중정차, 승객이 승하차할 경우에는 가능하다	B. 이중정차, 주차하기 위한 사전행동으로만	C. 이중정차, 그 어떤 경우에도 허용되지 않는다.	<b>B</b>



			가능하다.		
	어느 경우를 차량의 정차로 정의할 수 있는가	A. 주행을 하기 위해 혹은 불가피한 이유로 도로상에 대기하고 있는 상태를 말한다.	B. 차량을 갓길에 세우고 교통통제관의 지시에 따르거나 혹은 승객의 승하차, 화물의 적하차를 위해 대기하고 있는 상태만을 의미한다.	C. a와 b, 모두 옳다	<b>B</b>
	법 24.449와 그 시행세칙의 규정에 따르면 차량 운행시 지참해야할 서류는	A. 세둘라 베르데와 빠네펀데 영수증	B. 빠네펀데 영수증과 보험 영수증	C. 빠네펀데 영수증, 보험 영수증, 세둘라 베르데, 택시나 레미스의 경우 허가증과 차량검사증	<b>C</b>
	알코올은 운전자에게 무엇을 가져오나	A. 시야를 넓혀준다	B. 회열상태에 빠지며 안전하다는 착각에 빠지게 한다.	C. 반응속도가 떨어진다.	<b>B</b>
	안개 낀 날은 왜 위험한가	A. 가시거리를 줄이고 도로를 미끄럽게 하며 거리측정을 어렵게 하기 때문	B. 사물을 지각하는 능력을 높게하나 거리감각을 낮추기 때문	C. a와 b, 모두 옳다	<b>A</b>
	안개가 자주 끼는 지역의 도로는 V자가 역으로 그려져 있다. 이지역을 통과할때 최고 속도는 어떻게 정하나	A. 역 V자가 하나만 보일 때는 허용되는 최고 속도가 40Km/h이다.	B. 역 V자가 두개 보일때는 허용최고 속도가 60Km/h이다.	C. a와 b, 모두 옳다	<b>C</b>
	신호등이 없는 교차로에 접근할 때, 한 보행자가 당신차의 왼쪽에서 오른쪽으로 횡단하려 한다. 어떻게 해야하나.	A. 정차한다. 보행자가 우선이다.	B. 차량속도를 충분히 줄인다. 오른쪽에서 왼쪽으로 횡단하는 보행자만 우선이다.	C. 자동차의 속도를 통제하는 것이 더 어려우므로 자동차가 우선이다.	<b>A</b>
	법 2148에 따르면 면허증의 개인정보에 변동사항이 있을 경우 빠른 시일 내에 신고하도록 돼있다. 만약 이를 어길 경우 그 면허증의 시효는 언제 만료되나	A. 60일	B. 90일	C. 120일	<b>B</b>
	도로를 이용하는 모든 시민은 어떤 것을 준수해야 하나	A. 불필요한 위험을 부르는 행위를 하지 않을 의무	B. 면허 카테고리에 따라 적어도 1년간 운전 경험을 쌓아야 한다.	C. 교통안전 강좌를 적어도 6개월에 한번씩 이수해야 한다.	<b>A</b>



교통법에서 민사상 책임에 따른 배상소송을 할 수 있는 기본 요건은	A. 타인에게 피해를 주기위한 의도로 운전을 했을때	B. 교통사고로 인한 명백한 피해사실이 발생했을 경우	C. 교통사고 피해를 준 사람의 연령	<b>B</b>
교통법에서 형사상 책임을 타인에게 이전할수 있는가(예를 들어 운전자가 차주에게 형사책임 전가)	A. 안된다. 형사상 책임은 전가될 수 없다.	B. 가능하다. 형사상 책임을 보험회사에 전가하는 것도 가능하다	C. 담당판사가 사고의 경중에 따라 결정할 것이다.	<b>A</b>
자동차의 주행중에 자신과 타인의 안전에 지장을 주지 않기 위해 어떤 상황 및 주행조건을 살펴야 하나	A. 도로, 차량, 날씨	B. 차량의 상태, 도로의 상태, 날씨, 운전자의 컨디션	C. 운전자의 컨디션, 교통상황, 바퀴의 상태	<b>B</b>
교통과 관련된 급한 신고를 할때 걸어야 할 전화번호는	A. 211 혹은 109	B. 112 혹은 110	C. 911 혹은 107	<b>C</b>
안개가 낀날의 위험요인은 어떻게 변화하나	A. 운전자의 시야가 좁아지며 전조등의 조명거리가 짧아지고, 타이어의 접지능력이 감소하며 제동력이 떨어진다.	B. 운전자의 시야와 도로 사정이 악화된다.	C. 차량의 조명상황이 악화되고 주행할 때 타이어의 반응속도가 늦어질 뿐이다.	<b>A</b>
안개낀 날 사고위험을 줄이려면 어떤 것을 권해야 하나	A. 안개등을 켜다. 시야를 더 멀리까지 연장해주기 때문이다.	B. 운전대를 두손으로 잡고 감속하고 차간거리를 늘리고 의무적으로 켜야하는 전등을 켜다.	C. 갓길에 주차하고 안개가 걷힐때까지 기다린다.	<b>B</b>
운전 중 휴대폰 사용을 금지하는 이유는 무엇일까	A. 주의력을 떨어뜨리며 소리에 대한 감응에 제한을 받으며 반응시간이 길어진다.	B. 운전은 두손으로 하는 것이며 휴대폰은 운전할 수 있는 능력을 떨어뜨리기 때문이다.	C. a와 b, 모두 옳다	<b>C</b>
주행중 조수석에 앉은 사람도 휴대폰을 사용할 수 없는가	A. 일반적인 상황에서는 금지되지 않으나 위험한 상황에는 금지된다.	B. 휴대폰은 운전자만 사용이 금지돼있다.	C. a와 b, 모두 옳다	<b>B</b>
도로에서 단속에 걸려 딱지를 교부받았다. 어디서 벌금을 내야 하나.	A. 단속하는 공무원에게 현장에서 지불한다.	B. 법원에서 결정하는 바에 따른다.	C. a와 b, 모두 옳다	<b>B</b>
차량을 주차장에 넣거나 뺄때 보도를 횡단해야 한다. 이때 보도에 행인이 지나가고 있을 경우 어떻게 해야 하나	A. 무조건 보행자에게 양보한다.	B. 깜박이를 켜서 보행자에게 차량이 움직이고 있음을 알린다.	C. 보행자의 진행방향을 더 이상 막지않기 위해 신속하게 차량을 뺀다.	<b>A</b>



차의 유리창은 시야확보를 위한 것이다. 어떤 상태이어야 하나	A. 차량 내부에서 외부로만 볼수 있어야 한다.	B. 외부에서 내부로, 내부에서 외부로(양방향에서) 볼수 있어야 한다.	C. 양방향에서 볼수 있어야 하는 유리창은 앞유리창 뿐이다.	<b>B</b>
당신은 양방향통행 아베니다로 가고 있다. 이때 한 모퉁이에서 좌회전하려한다. 어떤 경우에 가능한가	A. 좌회전을 허용하는 신호등이 설치된 곳, 혹은 아무런 신호등도 설치되지 않은 곳	B. 나의 진행방향의 신호등이 푸른색일 경우 조심해서 좌회전하면 무방하다.	C. 반대방향에서 오는 차량이 없을 경우에만 가능하다.	<b>A</b>
어떤 차량이 길거리에서 고장난 차량을 견인할 수 있는가	A. 엔진 출력이 충분히 큰 차량이어야 하며 다른 차에 위험을 주지 않는 적절한 장비를 갖추면 된다.	B. 아무 차량이라도 무방하다. 단 안전을 위한 장비를 갖추어야 한다.	C. 견인이 허가된 차량만 가능하다.	<b>C</b>
법 2148에 따르면 차량에 보조전등을 장착할 수 있는가	A. 이 법에서 허용되지 않는 전등의 추가장착은 금지돼있다. 한쌍의 안개등과 보조제동등의 경우 2개까지 허용된다.	B. 전등을 많이 부착할수록 야간의 가시거리가 넓어지므로 전등 추가장착은 제한되지 않는다.	C. 그 어떤 전등도 추가로 장착할 수 없다. 단 전등이 파손됐을 경우 같은 전등을 교환할 수는 있다.	<b>A</b>
차량을 후진시키려 한다. 법으로 제한된 최대 후진거리는	A. 20미터 넘짓 후진할 수 있다.	B. 20미터를 넘어서는 안된다.	C. 필요한 만큼 가급적 짧은거리	<b>C</b>
법 2148에 따르면 차창의 색과 투명도는 어느정도까지 허용되나	A. 검사관이 투명도를 측정하는 계기로 측정했을때 허용되는 범위.	B. 짧은 거리에서 봤을때 내부의 승객이 구별될 정도.	C. 15미터의 거리에서 관측했을때 내부 탑승자의 얼굴이 구별될 정도.	<b>B</b>
번호판의 부착위치는 어느정도까지 이동이 허용되나	A. 번호판의 식별이 더 좋아지는 경우에만 다른 위치에 부착이 허용된다.	B. 법으로 규정된 곳외에는 어느곳으로도 부착 위치를 변경시킬수 없다.	C. 전면 번호판의 부착위치 이동은 허용되지 않으나 후면 번호판은 가능하다.	<b>B</b>
알코올 측정을 거부하는 행위는 교통법 위반인가	A. 다른 위반사항이 있거나 사고를 냈을 경우에는 그러하다	B. 아니다.	C. 항상 그렇다.	<b>C</b>
도로가 경사지지 않은 곳에 주차할때 무엇을 해야 하나.	A. 엔진을 꺼야한다.	B. 엔진을 끄고 기어를 중립에 위치한다	C. 엔진을 끄고 앞바퀴를 보도블럭에 바짝 붙힌다.	<b>B</b>



앞차가 좌회전하려고 정차해있다. 어떻게 해야 하나	A. 우측 깜박이를 켜고 미러를 통해 주시하면서 우측으로 빠져나간다.	B. 전방을 주의하면서 좌측으로 추월한다.	C. 빨리가라고 경적을 울린다.	<b>A</b>
여러대의 차가 줄지어 가고 있을 때 어느차량이 추월할수 있는 우선권이 있나	A. 먼저 추월을 시도하는 차량	B. 줄의 맨뒤에 위치한 차량	C. 추월을 시도하는 차량의 뒤에 있는 첫 차량	<b>C</b>
주차장의 문을 열거나 닫기위해 보도 상에 주차할 수 있는가	A. 안된다.	B. 잠깐동안이므로 무방하다.	C. 보도가 넓은 경우에는 가능하다.	<b>A</b>
앞차의 빨간불이 보인다. 도로의 진행방향으로 볼때 이는 무엇을 의미하는가	A. 앞차는 내차와 같은 진행방향에 있다.	B. 우리쪽으로 다가오고 있다.	C. 고장난 차이다.	<b>A</b>
내가 진행하는 방향이 우선권이 없다는 것을 표시하는 표지판은 무엇인가	A. 일단정지 혹은 길 양보 표지판	B. 유턴 금지 표지판	C. 역방향 혹은 의무 회전 표지판	<b>A</b>
양방도로상에 있을때 내가 진행하는 도로는 막혀있고 반대방향에서 차가 오고 있을 때 어떻게 해야 하나	A. 반대방향 차량에게 양보한다.	B. 내가 먼저 통과할 권한이 있다.	C. 어느쪽도 우선권이 없다.	<b>A</b>
길모퉁이에서 과란불이 켜져 회전하려 한다. 그때 보행자도 과란 신호이므로 길을 횡단하고 있다. 누가 우선권이 있나	A. 보행자	B. 차량	C. 경우에 따라 다르다.	<b>A</b>
서행해야 한다는 표지판에 따라 서행하고 있을 때 지나치게 느린 다른 차량을 추월할수 있을까	A. 안된다.	B. 가능하다. 단 허용된 속도를 준수해야 한다.	C. 경우에 따라 다르다.	<b>B</b>
일방 도로에 섬(분리대)이 설치돼 있다. 어느쪽으로 주행해야 하나	A. 섬의 가운데로	B. 우측으로 난 도로로	C. 양쪽 다 무방하다.	<b>C</b>
고속도로 혹은 준 고속도로를 벗어나려 하고 있다. 언제 속도를 줄여야 하는가	A. 감속을 위한 차선으로 진입했을때	B. 새로운 도로에 진입했을 때	C. 고속도로를 벗어나기 전에	<b>A</b>
초보운전자의 경우 앞창 하단부와 뒷창에 어떤 표식을 부착해야 하나	A. 초보운전 6개월 간은 녹색바탕에 흰색 글자로 P라고 쓰인 표식을 의무적으로 부착해야 한다.	B. 초보운전 3개월 간은 녹색바탕에 흰색 글자로 P라고 쓰인 표식을 의무적으로 부착해야 한다.	C. 초보운전 12개월 간은 녹색바탕에 흰색 글자로 P라고 쓰인 표식을 의무적으로 부착해야 한다.	<b>A</b>
운전자가 계속 경적을 울려대고 조수석에 앉은 사람이 손수건을 흔들며 댄다면 무엇을 의미하는가	A. 차량이 문제가 있다는 뜻이다.	B. 위급한 환자를 병원으로 이송중이라는 뜻이다.	C. 고속으로 달리면서 신호위반을 하겠다는 뜻이다.	<b>B</b>
당신이 경찰도, 신호등도 없는 교차로에 다가가고 있을 때 한 보행자가 횡단하고 있다. 어떻게 해야 하나	A. 속도를 줄이고 주의해야 한다.	B. 무조건 정차하고 보행자에게 길을 양보해야 한다.	C. 그냥 가던 속도로 지나친다. 우선권이 있기 때문이다.	<b>B</b>
주차할 때 차량과 보도블럭과의 사이는 어느정도로 떼어 놓아야 하는가	A. 50Cm	B. 10Cm	C. 20Cm	<b>C</b>



	자동차의 경우 타이어의 무늬가 적어도 어느정도 남아 있어야 하는가	A. 0.5mm	B. 1.0mm	C. 1.6mm	<b>C</b>
	학생들이 차도로 행렬을 지어 갈때 양보해야 하나	A. 아니다.	B. 그렇다.	C. 가까운곳에 학교가 있을 경우에만 그래야 한다	<b>B</b>
	까제에서의 최고 제한 속도는	A. 30Km/h	B. 20Km/h	C. 25Km/h	<b>B</b>
	신호등이 빨간색만 계속 깜박인다면 무엇을 의미하는가	A. 신호등이 절반만 작동하는 것이며 위험한 교차로에 접근한다는 뜻이므로 일단 정지한 후 위험이 없다는 것을 확인후 주행한다.	B. 신호등이 고장났다.	C. 곧 신호등이 파란색으로 바뀔 것이다.	<b>A</b>
	차단기도 없고 신호등도 없는 철도 건널목을 횡단하는 최고 허용속도는	A. 10Km/h	B. 20Km/h	C. 30Km/h	<b>B</b>
	아베니다에서의 허용되는 최저속도는	A. 40Km/h	B. 20Km/h	C. 30Km/h	<b>C</b>
	우리가 세미아우또빠스따라고 규정하는 조건은 무엇인가.	A. 교차로가 있음	B. 신호등과 톨게이트가 있어야 함	C. 고가도로여야 하며 적어도 왕복 4차선이어야 함	<b>A</b>
	철도건널목에서 정차지시선이 없을 경우 몇미터를 떼어놓고 정차해야 하는가.	A. 7미터	B. 5미터	C. 2미터	<b>B</b>
	일반적으로 주차금지라는 표지가 있는 곳에서 승객이 내리거나 탈수 있는 것인가	A. 그렇다	B. 안된다.	C. 시간대에 따라 다르다	<b>A</b>
	아우또빠스따라고 할 수 있는 기본 조건은 무엇인가	A. 교차로가 없음	B. 교차할 수 있는 많은 차선을 갖추고 있음	C. 톨게이트가 있음	<b>A</b>
	철도건널목에 다가가고 있을 때 차단기가 내려오고 있다. 건너야 하나	A. 그렇다. 그러나 항상 기차가 오는가 확인해야 한다.	B. 절대 안된다.	C. 차단기가 완전히 내려오지 않았을 경우 주의해서 건널 수 있다.	<b>B</b>